

تعداد سوالات: تستی: ۲۵ تشریحی: ۵

زمان آزمون (دقیقه): تستی: ۶۰ تشریحی: ۶۰

سری سوال: یک ۱

عنوان درس: پژوهش عملیاتی، پژوهش عملیاتی در جهانگردی، تحقیق در عملیات، تحقیق در عملیات، تحقیق در عملیات ۱

رشته تحصیلی/کد درس: - مهندسی فناوری اطلاعات (چندبخشی) (۱۱۵۱۵۸ - ، حسابداری (چندبخشی) (۱۲۱۴۰۴۶ - ، مدیریت جهانگردی (۱۲۱۸۰۰۹
مدیریت دولتی (۱۲۱۸۰۲۸ - ، مدیریت صنعتی (۱۲۱۸۰۶۵ - ، مدیریت اجرایی، مدیریت اجرایی (استراتژیک) ، مدیریت اجرایی
(بازاریابی و صادرات)، مدیریت اجرایی مجازی، مدیریت بازرگانی (بازاریابی - بازرگانی بین الملل)، مدیریت بازرگانی (بازاریابی)
مدیریت بازرگانی (۱۲۱۸۱۱۹ - ، مدیریت MBA، مدیریت بازرگانی (بازرگانی بین الملل)، مدیریت بازرگانی - مدیریت مالی، مدیریت
صنعتی (چندبخشی) (۱۲۱۸۲۶۸ - ، مدیریت دولتی (چندبخشی) (۱۲۳۴۰۰۲)

باشگاه دانشجویان دانشگاه پیام نور

WWW.PDFSTORE.COM

استفاده از ماشین حساب مهندسی مجاز است

۱- کدام گزینه جزء مدل های ترکیبی تحقیق در عملیات می باشد؟

۱. برنامه ریزی پویا ۲. برنامه ریزی آرمانی ۳. تحلیل تصمیم ۴. روش های جستجو

۲- کدامین مدل جزء انتزاعی ترین مدل ها است؟

۱. شهودی ۲. قیاسی ۳. شمایی ۴. ریاضی

۳- در روش ترسیمی حل مسائل برنامه ریزی خطی گوشه ای که از بیش از دو معادله ی مرزی تشکیل شده باشد؟

۱. گوشه ی غیر موجه است. ۲. گوشه ی تبهگن است.
۳. نقطه ی بهینه است. ۴. نقطه ی غیر موجه است.

مدل زیر را در نظر گرفته و به سوالات زیر پاسخ دهید): فروشگاه آنلاین نمونه سوالات پیام نور

یک شرکت چوب بری باید سفارش هایی با ابعاد زیر را تهیه کند و به مشتریان بفروشد

WWW.PDFSTORE.IR

ابعاد چوب های سفارشی	مقدار سفارش
میلی متر ۱۱ × ۲ متر ۱ × متر	۱۳۰۰
میلی متر ۱۱ × ۴ متر ۱ × متر	۱۰۰۰
میلی متر ۱۱ × ۴ متر ۲ × متر	۷۰۰

این سفارشات باید از تخته های استاندارد به ابعاد ۱۱×۴×۲ تهیه گردد، شرکت چوب بری در نظر دارد که سفارشات را به گونه ای برآورد ه سازد تا حداقل تخته ی استاندارد مورد استفاده قرارگیرد .

۴- تعداد محدودیت های مدل فوق چندتا است؟

۱. ۲ ۲. ۳ ۳. ۴ ۴. ۵

۵- تعداد متغیرهای تصمیم چندتا می باشد؟

۱. ۳ ۲. ۴ ۳. ۵ ۴. ۶

تعداد سوالات: تستی: ۲۵ تشریحی: ۵

زمان آزمون (دقیقه): تستی: ۶۰ تشریحی: ۶۰

سری سوال: ۱ یک

عنوان درس: پژوهش عملیاتی، پژوهش عملیاتی در جهانگردی، تحقیق در عملیات، تحقیق در عملیات، تحقیق در عملیات ۱

رشته تحصیلی/کد درس: مهندسی فناوری اطلاعات (چندبخشی) (۱۱۱۵۱۵۸ - ، حسابداری (چندبخشی) (۱۲۱۴۰۴۶ - ، مدیریت جهانگردی (۱۲۱۸۰۰۹ - ، مدیریت دولتی (۱۲۱۸۰۲۸ - ، مدیریت صنعتی (۱۲۱۸۰۶۵ - ، مدیریت اجرایی، مدیریت اجرایی (استراتژیک) ، مدیریت اجرایی (بازاریابی و صادرات)، مدیریت اجرایی مجازی، مدیریت بازرگانی (بازاریابی - بازرگانی بین الملل، مدیریت بازرگانی (بازاریابی)، مدیریت بازرگانی (بازرگانی بین الملل)، مدیریت بازرگانی - مدیریت مالی، مدیریت MBA، مدیریت بازرگانی (۱۲۱۸۱۱۹ - ، مدیریت صنعتی (چندبخشی) (۱۲۱۸۲۶۸ - ، مدیریت دولتی (چندبخشی) (۱۲۳۴۰۰۲ -

باشگاه دانشجویان دانشگاه پیام نور

WWW.PNU-CLUB.COM

۶- اضافه کردن متغیر مصنوعی R به محدودیت باعث می شود که منطقه ی موجه :

۱. بزرگتر شود.

۲. کوچکتر شود.

۳. تغییری نکند.

۴. در بعضی موارد کوچکتر و در بعضی موارد بزرگتر شود.

۷- در تابلوی سیمپلکس یک مدل برنامه ریزی خطی متغیر ورودی وجود دارد اما تمامی عناصر ستون لولا غیر مثبت هستند ، این مدل دارای کدام حالت خاص است؟

۱. تبهگن

۲. ناحیه ی جواب بی کران بدون گوشه ی بهینه

۳. فاقد ناحیه ی موجه

۴. بهینه ی چندگانه

فروشگاه آنلاین نمونه سوالات پیام نور

آزمون های فراگیر

۸- در صورتی که سود هر واحد محصول برای ۱۰ واحد اول ۲ و برای واحدهای ۱۱ تا ۲۰ ، $1/5$ باشد کدام یک از مفروضات برنامه ریزی خطی نقض گردیده است ؟

۱. فرض تناسب

۲. فرض جمع پذیری

۳. فرض بخش پذیری

۴. فرض معین بودن

۹- کدام خصوصیت مدل برنامه ریزی خطی بر اساس متغیرهای غیر منفی مدل ($x_1, x_2, \dots, x_n \geq 0$) تضمین می شود؟

۱. فرض تناسب

۲. فرض جمع پذیری

۳. فرض بخش پذیری

۴. فرض معین بودن سوالات پیام نور

منابع پیام نور

پانوق پیام نوری

PNU-CLUB.COM



تعداد سوالات: تستی: ۲۵ تشریحی: ۵

زمان آزمون (دقیقه): تستی: ۶۰ تشریحی: ۶۰

سری سوال: ۱ یک

عنوان درس: پژوهش عملیاتی، پژوهش عملیاتی در جهانگردی، تحقیق در عملیات، تحقیق در عملیات، تحقیق در عملیات ۱

رشته تحصیلی/کد درس: مهندسی فناوری اطلاعات (چندبخشی) (۱۱۱۵۱۵۸ - ، حسابداری (چندبخشی) (۱۲۱۴۰۴۶ - ، مدیریت جهانگردی (۱۲۱۸۰۰۹ - ، مدیریت دولتی (۱۲۱۸۰۲۸ - ، مدیریت صنعتی (۱۲۱۸۰۶۵ - ، مدیریت اجرایی، مدیریت اجرایی (استراتژیک) ، مدیریت اجرایی (بازاریابی و صادرات)، مدیریت اجرایی مجازی، مدیریت بازرگانی (بازاریابی - بازرگانی بین الملل، مدیریت بازرگانی (بازاریابی)، مدیریت بازرگانی (بازرگانی بین الملل)، مدیریت بازرگانی - مدیریت مالی، مدیریت MBA، مدیریت بازرگانی (۱۲۱۸۱۱۹ - ، مدیریت صنعتی (چندبخشی) (۱۲۱۸۲۶۸ - ، مدیریت دولتی (چندبخشی) (۱۲۳۴۰۰۲ -

باشگاه دانشجویان دانشگاه پیام نور

WWW.PNU-CLUB.COM

۱۰- مسأله ی برنامه ریزی خطی زیر را در نظر بگیرید و مشخص کنید که دارای چه حالت خاصی است؟

$$MaxZ = 6x_1 - 2x_2$$

s.t :

$$\begin{cases} 2x_1 - x_2 \leq 2 \\ x_1 \leq 4 \end{cases}$$

$$x_1, x_2 \geq 0$$

۲. ناحیه ی جواب بی کران دارای گوشه ی

۱. ناحیه ی جواب بی کران فاقد گوشه ی بهینه

۴. جواب بهینه ی چندگانه

۳. فاقد ناحیه ی موجه

۱۱- اگر در یک مسأله ی برنامه ریزی خطی تابع هدف موازی با یکی از محدودیت ها باشد ، مسأله دارای کدام حالت خاص است؟

۲. ناحیه ی جواب بی کران

۱. تبهگن با پاسخنامه

۴. جواب بهینه ی چندگانه

۳. فاقد ناحیه ی موجه

۱۲- یک مسأله ی برنامه ریزی خطی می تواند:

۲. دارای بی نهایت جواب موجه باشد.

۱. دارای بی نهایت گوشه ی غیر موجه باشد.

۴. دارای بی نهایت گوشه باشد.

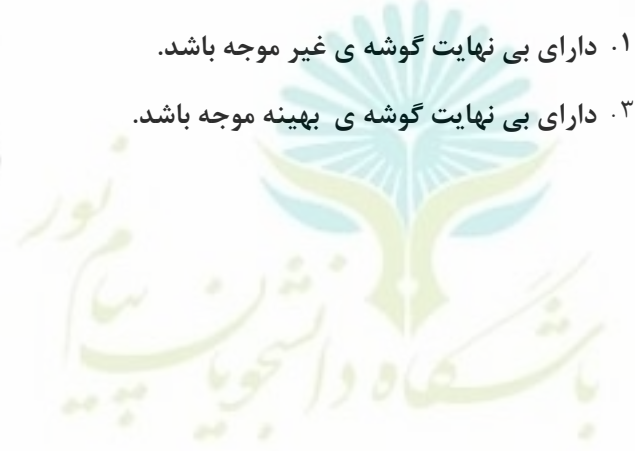
۳. دارای بی نهایت گوشه ی بهینه موجه باشد.

دانلود رایگان نمونه سوالات پیام نور

منابع پیام نور

پانوق پیام نوری

PNU-CLUB.COM



تعداد سوالات: تستی: ۲۵ تشریحی: ۵

زمان آزمون (دقیقه): تستی: ۶۰ تشریحی: ۶۰

سری سوال: ۱ یک

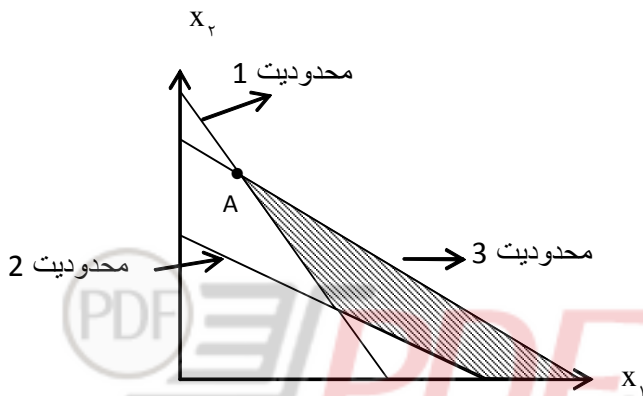
عنوان درس: پژوهش عملیاتی، پژوهش عملیاتی در جهانگردی، تحقیق در عملیات، تحقیق در عملیات، تحقیق در عملیات ۱

رشته تحصیلی/کد درس: مهندسی فناوری اطلاعات (چندبخشی) (۱۱۱۵۱۵۸ - ، حسابداری (چندبخشی) (۱۲۱۴۰۴۶ - ، مدیریت جهانگردی (۱۲۱۸۰۰۹ - ، مدیریت دولتی (۱۲۱۸۰۲۸ - ، مدیریت صنعتی (۱۲۱۸۰۶۵ - ، مدیریت اجرایی، مدیریت اجرایی (استراتژیک) ، مدیریت اجرایی (بازاریابی و صادرات)، مدیریت اجرایی مجازی، مدیریت بازرگانی (بازاریابی - بازرگانی بین الم، مدیریت بازرگانی (بازاریابی)، مدیریت بازرگانی (بازرگانی بین الملل)، مدیریت بازرگانی - مدیریت مالی، مدیریت MBA، مدیریت بازرگانی (۱۲۱۸۱۱۹ - ، مدیریت صنعتی (چندبخشی) (۱۲۱۸۲۶۸ - ، مدیریت دولتی (چندبخشی) (۱۲۳۴۰۰۲ -

باشگاه دانشجویان دانشگاه پیام نور

WWW.PNU-CLUB.COM

۱۳- در صورتی که متغیرهای کمکی مسأله ی زیر را با s_1 و s_2 و s_3 نشان دهیم، در نقطه ی A :



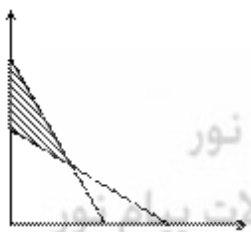
۰.۲ $s_1 = 0, s_2 = 0, s_3 > 0$

۰.۱ $s_1 = 0, s_2 > 0, s_3 = 0$

۰.۴ $s_1 < 0, s_2 < 0, s_3 > 0$

۰.۳ $s_1 = 0, s_2 < 0, s_3 = 0$

۱۴- برای حل مسأله ی زیر به روش سیمپلکس به چند متغیر تصمیم، کمکی و مصنوعی نیاز است؟



منابع پیام نور

۵.۳

۴.۲

۳.۱

۱۵- هرگاه در یک تابلوی سیمپلکس حداقل یکی از متغیرهای مصنوعی اساسی باشد و دارای مقدار بزرگتر از صفر باشد، مدل چه حالت خاصی دارد؟

۰.۱ جواب بهینه ی چندگانه

۰.۲ منطقه موجه نامحدود

۰.۳ فاقد ناحیه موجه (جواب)

۰.۴ تبهگن

تعداد سوالات: تستی: ۲۵ تشریحی: ۵

زمان آزمون (دقیقه): تستی: ۶۰ تشریحی: ۶۰

سری سوال: ۱ یک

عنوان درس: پژوهش عملیاتی، پژوهش عملیاتی در جهانگردی، تحقیق در عملیات، تحقیق در عملیات، تحقیق در عملیات ۱

رشته تحصیلی/کد درس: مهندسی فناوری اطلاعات (چندبخشی) (۱۱۱۵۱۵۸ - ، حسابداری (چندبخشی) (۱۲۱۴۰۴۶ - ، مدیریت جهانگردی (۱۲۱۸۰۰۹ - ، مدیریت دولتی (۱۲۱۸۰۲۸ - ، مدیریت صنعتی (۱۲۱۸۰۶۵ - ، مدیریت اجرایی، مدیریت اجرایی (استراتژیک) ، مدیریت اجرایی (بازاریابی و صادرات)، مدیریت اجرایی مجازی، مدیریت بازرگانی (بازاریابی - بازرگانی بین الم، مدیریت بازرگانی (بازاریابی)، مدیریت بازرگانی (بازرگانی بین الملل)، مدیریت بازرگانی - مدیریت مالی، مدیریت MBA، مدیریت بازرگانی (۱۲۱۸۱۱۹ - ، مدیریت صنعتی (چندبخشی) (۱۲۱۸۲۶۸ - ، مدیریت دولتی (چندبخشی) (۱۲۳۴۰۰۲ -

باشگاه دانشجویان دانشگاه پیام نور

WWW.PNU-CLUB.COM

۱۶- تعداد متغیرهای کمکی و مصنوعی مدل زیر چند تا است؟

$$MaxZ = 2x_1 + 5x_2 + 3x_3$$

s.t :

$$\begin{cases} 2x_1 + x_2 \leq 2 \\ x_1 + x_2 \leq 5 \\ x_3 \geq 20 \\ x_1 + x_2 + x_3 = 40 \\ x_1, x_2, x_3 \geq 0 \end{cases}$$

۶.۴

۵.۳

۴.۲

۳.۱

۱۷- تابع هدف مرحله ی یک، مدل زیر در روش سیمپلکس دو مرحله ای کدام است؟

$$MinZ = 4x_1 + x_2$$

s.t :

$$\begin{cases} 3x_1 + x_2 = 3 \\ 4x_1 + 3x_2 \geq 6 \\ x_1 + 2x_2 \leq 3 \\ x_1, x_2 \geq 0 \end{cases}$$

$$x_1, x_2 \geq 0$$

$$MinR_0 = R_1 + R_2$$

$$MinR_0 = R_1$$

$$MaxR_0 = R_1 + R_2 + R_3$$

$$MinR_0 = R_1 + R_2 + R_3$$

۱۸- متغیرهای آغازین (متغیرهای اساسی جدول ابتدایی) برای محدودیت های به ترتیب $\begin{bmatrix} = \\ \geq \\ \leq \end{bmatrix}$ عبارتند از:

$$\begin{bmatrix} R \\ S \\ S \end{bmatrix}$$

$$\begin{bmatrix} R \\ R \\ S \end{bmatrix}$$

$$\begin{bmatrix} R \\ S \\ R \end{bmatrix}$$

$$\begin{bmatrix} S \\ R \\ R \end{bmatrix}$$

تعداد سوالات: تستی: ۲۵ تشریحی: ۵

زمان آزمون (دقیقه): تستی: ۶۰ تشریحی: ۶۰

سری سوال: ۱ یک

عنوان درس: پژوهش عملیاتی، پژوهش عملیاتی در جهانگردی، تحقیق در عملیات، تحقیق در عملیات، تحقیق در عملیات ۱

رشته تحصیلی/کد درس: مهندسی فناوری اطلاعات (چندبخشی) (۱۱۱۵۱۵۸ - ، حسابداری (چندبخشی) (۱۲۱۴۰۴۶ - ، مدیریت جهانگردی (۱۲۱۸۰۰۹ - ، مدیریت دولتی (۱۲۱۸۰۲۸ - ، مدیریت صنعتی (۱۲۱۸۰۶۵ - ، مدیریت اجرایی، مدیریت اجرایی (استراتژیک) ، مدیریت اجرایی (بازاریابی و صادرات)، مدیریت اجرایی مجازی، مدیریت بازرگانی (بازاریابی - بازرگانی بین الم، مدیریت بازرگانی (بازاریابی)، مدیریت بازرگانی (بازرگانی بین الملل)، مدیریت بازرگانی - مدیریت مالی، مدیریت MBA، مدیریت بازرگانی (۱۲۱۸۱۱۹ - ، مدیریت صنعتی (چندبخشی) (۱۲۱۸۲۶۸ - ، مدیریت دولتی (چندبخشی) (۱۲۳۴۰۰۲ -

باشگاه دانشجویان دانشگاه پیام نور

WWW.PNU-CLUB.COM

۱۹- جدول زیر یکی از تکرارهای روش سیمپلکس برای حل یک مسأله ی برنامه ریزی خطی را نشان می دهد

متغیرهای اساسی	Z	x_1	x_2	s_1	s_2	مقادیر سمت راست
Z_0	1	0	0	0	10	1200
s_1	0	0	$\frac{5}{4}$	1	$-\frac{1}{4}$	10
x_1	0	1	$\frac{3}{4}$	0	$\frac{1}{4}$	30

مسأله دارای کدام حالت خاص است؟

فروشگاه آنلاین نمونه سوالات پیام نور

۲. جواب بهینه ی چندگانه

۱. فاقد ناحیه ی موجه

WWW.PDFSTORE.IR

۴. تپهکن

۳. منطقه ی موجه نامحدود

۲۰- به ازاء هر محدودیت مساوی در مسأله ی اولیه:

۲. یک محدودیت کوچکتر مساوی در ثانویه وجود دارد.

۱. یک متغیر آزاد در علامت در ثانویه وجود دارد.

۴. یک متغیر منفی در ثانویه وجود دارد.

۳. یک متغیر مثبت در ثانویه وجود دارد.

$$\text{Max} Z = 4x_1 + 10x_2 + 6x_3$$

s.t :

$$\begin{cases} x_1 + 3x_2 + 4x_3 \leq 40 \\ 2x_2 + x_3 \leq 20 \\ 10x_1 + 6x_2 + 20x_3 \geq 100 \\ x_1 + 2x_2 = 60 \end{cases}$$

$$x_1, x_2, x_3 \geq 0$$

۲۱- تعداد متغیرهای تصمیم مسأله ی ثانویه ی مسأله ی فوق چند تا می باشد؟

۵ .۴

۴ .۳

۳ .۲

۲ .۱

تعداد سوالات: تستی: ۲۵ تشریحی: ۵

زمان آزمون (دقیقه): تستی: ۶۰ تشریحی: ۶۰

سری سوال: ۱: یک

عنوان درس: پژوهش عملیاتی، پژوهش عملیاتی در جهانگردی، تحقیق در عملیات، تحقیق در عملیات، تحقیق در عملیات ۱

رشته تحصیلی/کد درس: مهندسی فناوری اطلاعات (چندبخشی) (۱۱۱۵۱۵۸ - ، حسابداری (چندبخشی) (۱۲۱۴۰۴۶ - ، مدیریت جهانگردی (۱۲۱۸۰۰۹ - ، مدیریت دولتی (۱۲۱۸۰۲۸ - ، مدیریت صنعتی (۱۲۱۸۰۶۵ - ، مدیریت اجرایی، مدیریت اجرایی (استراتژیک) ، مدیریت اجرایی (بازاریابی و صادرات)، مدیریت اجرایی مجازی، مدیریت بازرگانی (بازاریابی -بازرگانی بین الم، مدیریت بازرگانی (بازاریابی)، مدیریت بازرگانی (بازرگانی بین الملل)، مدیریت بازرگانی-مدیریت مالی، مدیریت MBA، مدیریت بازرگانی (۱۲۱۸۱۱۹ - ، مدیریت صنعتی (چندبخشی) (۱۲۱۸۲۶۸ - ، مدیریت دولتی (چندبخشی) (۱۲۳۴۰۰۲ -

باشگاه دانشجویان دانشگاه پیام نور

WWW.PNU-CLUB.COM

۲- یک تولید کننده تلویزیون 42 ، LED اینچ، درصد تهیه ی برنامه ی زمانبندی تولید برای ۵ ماه آینده می باشد، آمار نشان می دهد که ماه قبل ۲۰۰۰ دستگاه تلویزیون تولید شده است و همچنین می توان در وقت اضافه کاری ۶۰۰ دستگاه تلویزیون در ماه تولید کرد. هزینه ی تولید هر دستگاه تلویزیون در زمان عادی ۱۰۰۰۰۰۰ تومان و در زمان اضافه کاری ۱۵۰۰۰۰۰ تومان می باشد، تعداد سفارشات برای ۵ ماه آینده به شرح جدول زیر است:

ماه	تعداد تلویزیون های سفارش داده شده
۱	۱۲۰۰ دستگاه
۲	۲۱۰۰ دستگاه
۳	۲۴۰۰ دستگاه
۴	۳۰۰۰ دستگاه
۵	۴۰۰۰ دستگاه

فروشگاه آنلاین نمونه سوالات پیام نور

هزینه انبارداری در ماه ۲۰۰۰۰ تومان برای هر دستگاه تلویزیون می باشد. موجودی انتهای ماه ۱۵ام باید صفر باشد. مدیر تولید می خواهد بداند که در هر ماه چند دستگاه تلویزیون بایستی تولید کند که ضمن برآوردن سفارشات ، کل هزینه های تولید و انبارداری حداقل گردد، مسأله را به صورت یک مدل برنامه ریزی خطی فرموله نمایید..

آخرین اخبار پیام نور

۳- جواب بهینه ی مدل زیر را با استفاده از روش ترسیمی به دست آورید. ۱.۵۰ شماره

$$MaxZ = 3x_1 + 6x_2$$

s.t :

$$\begin{cases} 3x_1 + 6x_2 \leq 18 \\ x_1 + x_2 \geq 5 \\ x_1 \leq 4 \end{cases}$$

$$x_1, x_2 \geq 0$$

تعداد سوالات: تستی: ۲۵ تشریحی: ۵

زمان آزمون (دقیقه): تستی: ۶۰ تشریحی: ۶۰

سری سوال: ۱ یک

عنوان درس: پژوهش عملیاتی، پژوهش عملیاتی در جهانگردی، تحقیق در عملیات، تحقیق در عملیات، تحقیق در عملیات ۱

رشته تحصیلی/کد درس: مهندسی فناوری اطلاعات (چندبخشی) (۱۱۱۵۱۵۸ - ، حسابداری (چندبخشی) (۱۲۱۴۰۴۶ - ، مدیریت جهانگردی (۱۲۱۸۰۰۹ - ، مدیریت دولتی (۱۲۱۸۰۲۸ - ، مدیریت صنعتی (۱۲۱۸۰۶۵ - ، مدیریت اجرایی، مدیریت اجرایی (استراتژیک) ، مدیریت اجرایی (بازاریابی و صادرات)، مدیریت اجرایی مجازی، مدیریت بازرگانی (بازاریابی - بازرگانی بین الم، مدیریت بازرگانی (بازاریابی)، مدیریت بازرگانی (بازرگانی بین الملل)، مدیریت بازرگانی - مدیریت مالی، مدیریت MBA، مدیریت بازرگانی (۱۲۱۸۱۱۹ - ، مدیریت صنعتی (چندبخشی) (۱۲۱۸۲۶۸ - ، مدیریت دولتی (چندبخشی) (۱۲۳۴۰۰۲ -

باشگاه دانشجویان دانشگاه پیام نور

WWW.PNU-CLUB.COM

۴- مدل زیر را با استفاده از روش سیمپلکس دو مرحله ای تا پایان مرحله ی اول حل کنید. ۱.۵۰نمره

$$MaxZ = 3x_1 - x_2$$

s.t :

$$\begin{cases} 2x_1 + x_2 \geq 2 \\ x_1 + 3x_2 \leq 3 \\ x_2 \leq 4 \end{cases}$$

$$x_1, x_2 \geq 0$$

۱.۵۰نمره

۵- مسأله ی اولیه ی زیر را در نظر گرفته و مسأله ی ثانویه ی آن را بنویسد؟

$$MaxZ = 4x_1 + 10x_2 + 6x_3$$

s.t :

$$\begin{cases} x_1 + 3x_2 + 4x_3 \leq 40 \\ 2x_1 + x_3 \leq 20 \\ 10x_1 + 6x_2 + 20x_3 = 100 \\ x_1 + 2x_2 = 60 \end{cases}$$

$$x_1, x_2, x_3 \geq 0$$

PNU-CLUB.COM